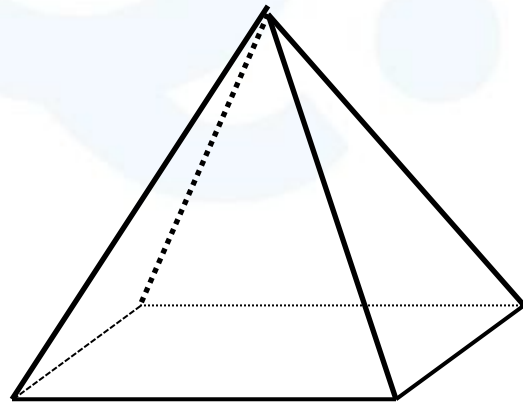


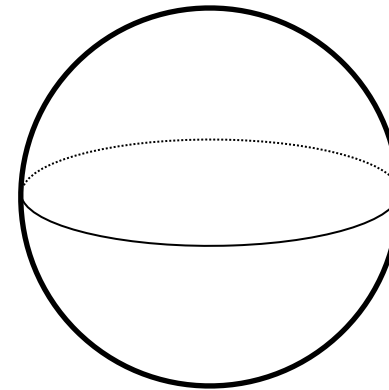
Q. 次の4つの立体を地面と平行に何回も切ります。

すべての切り口が同じ大きさ、形になるものはどれでしょうか。

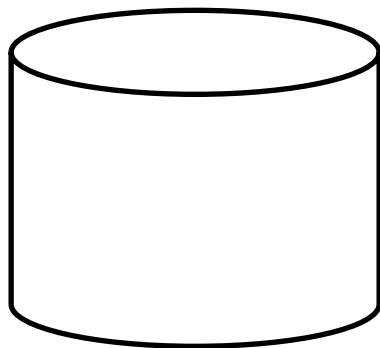
① しかくすい
四角錐



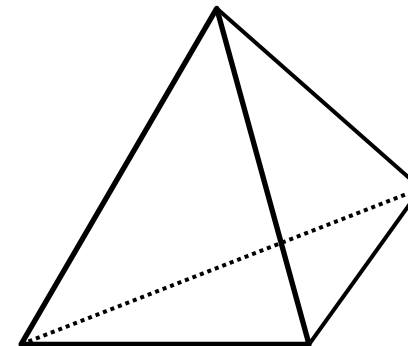
② きゅう
球



③ えんちゅう
円柱



④ さんかくすい
三角錐




A. ^{えんちゆう} ③ 円柱


①～④の切り口の形はそれぞれ次のようになります。

その中でも大きさも一緒なのは③だけです。


① ^{しかくすい} 四角錐



② ^{きゆう} 球



③ ^{えんちゆう} 円柱



④ ^{さんかくすい} 三角錐

